

Приложение 1.
Оснащение

	Название оснащения	Единица	Гребная лодка	Моторн. лодка	Катер
1.Спасательные средства					
1.1.	спасательный круг с линем				
1.1.1.	если длина судна менее 7 м	шт.	1	1	1
1.1.2.	если длина судна 7 м или более	шт.	1	2	2
1.2.	спасательный жилет	шт.	*	*	**
2. Пожаробезопасное оборудование					
2.1.	углекислотный или порошковый огнетушитель				
2.1.1.	если длина судна менее 7 м	шт.	-	-	1
2.1.2.	если длина судна 7 м или более	шт.	-	1	2
3. Навигационное оборудование					
3.1.	компас	шт.	-	-	1
4. Отсасывающие средства					
4.1.	насос	шт.	-	-	1
4.2.	ведро, черпак или ручной водяной насос	шт.	1	1	1
5. Прочее оборудование					
5.1.	якорь с цепью или тросом (см.таблицу 2)	шт.	-	1	1
5.2.	аптечка первой помощи				
5.2.1.	если длина судна менее 7 м	шт.	-	-	-
5.2.2.	если длина судна 7 м или более	шт.	-	1	1
5.3.	водонепроницаемый электрический фонарь (в условиях ограниченной видимости или в темное время суток)	шт.	1	1	1
5.4.	такелажный нож	шт.	-	1	1
5.5.	весла	шт.	1-2	2	-

Примечания.

1. * Число спасательных жилетов на гребных и моторных лодках должно соответствовать числу человек на соответствующем судоходном средстве.
2. ** Число спасательных жилетов на катере соответствует числу человек на катере.

Рекомендованная норма якорей













№	Длина судна (м)	Минимальная масса якоря (кг)	Минимальный диаметр якорной цепи или троса (мм)		Минимальная длина якорной цепи или троса (м)
			цепь	трос	
1.	3	5	-	12	20
2.	4	6	-	12	20
3.	5	7	-	12	20
4.	6	8	-	12	20
5.	7	9	-	12	20
6.	8	10	-	12	20
7.	10	10	-	12	30
8.	11	10	-	12	30
9.	12	10	-	14	30
10.	13	12	-	14	40
11.	14	15	-	14	40
12.	15	18	8	16	40
13.	16	20	8	16	40
14.	17	22	8	16	40
15.	18	25	8	16	40
16.	19	25	8	16	40
17.	20	28	8	16	40
18.	21	30	10	18	40
19.	22	33	10	18	40
20.	23	35	12	20	40
21.	24	35	12	20	40

Примечания.

1. Диаметр якорной цепи измеряется по диаметру звена цепи.
2. Диаметр троса указан для нейлоновых тросов. Если используется трос из другого материала его прочность должна быть не менее чем у соответствующего диаметра нейлонового троса.

Навигационные знаки и огни внутренних вод

1. Запрещающие знаки устанавливают правила ограничения движения

№ п.п.	Название знака	Описание знака	Обозначение знака в дневное время суток	Обозначение знака в темное время суток
1.1.	Становиться на якорь запрещено	Например, запрещено спускать якорь, лот.		Освещается
1.2.	Судоходным средствам судоходство запрещено	Судоходным средствам далее судоходство запрещено. В темное время суток этот знак обозначают два постоянно горящих красных огня, установленные один над другим.		
1.3.	Запрещено образовывать волнение	Судоходным средствам необходимо двигаться с такой скоростью, чтобы не образовывать волнение. В темное время суток этот знак обозначают два огня установленные один над другим: верхний - красный, нижний - белый.		
1.4.	Моторизованным судоходным средствам судоходство запрещено	Судоходным средствам, которые приводятся в движение мотором, дальше судоходство запрещено.		Освещается
1.5.	Всем прогулочным судам судоходство запрещено	Запрещено судоходство всех прогулочных судов.		Освещается
1.6.	Запрещен воднолыжный спорт	Запрещен воднолыжный спорт.		Освещается
1.7.	Запрещено судоходство на яхтах и других судоходных средствах, предназначенных для судоходства, главным образом с парусом	Судоходство яхт и других судоходных средств, которые предусмотрены для судоходства, главным образом с парусом, запрещено.		Освещается
1.8.	Всем плавательным средствам, за исключением моторизованных и парусных судоходных средств, судоходство запрещено	Всем судоходным средствам, за исключением моторизованных и парусных судоходных средств, судоходство запрещено.		Освещается
1.9.	Запрещено использование парусных досок	Запрещено использование парусных досок.		Освещается
1.10.	Запрещен спуск на воду и подъем на берег судоходных средств	Запрещен спуск на воду и подъем на берег судоходных средств.		Освещается

№ п.п.	Название знака	Описание знака	Обозначение знака в дневное время суток	Обозначение знака в темное время суток
1.11.	Запрещено использование водных мотоциклов	Запрещено использование водных мотоциклов.		Освещается
1.12.	Указанную скорость судоходства (км/час) превышать запрещено	Указанную скорость судоходства (км/час) превышать запрещено.		Освещается
1.13.	Судоходным средствам запрещена швартовка или стоянка на якорь	Судоходным средствам запрещена швартовка или стоянка на якорь.		Освещается
1.14.	Судоходным средствам швартоваться запрещено	Судоходным средствам швартоваться запрещено.		Освещается

2. Предупреждающие знаки предупреждают водителя об особенностях водного движения и устанавливают режим водного движения.

№ п.п.	Название знака	Описание знака	Обозначение знака в дневное время суток	Обозначение знака в темное время суток
2.1.	Выполнять усиленное наблюдение	Указывает на участок внутренних вод, где необходимо соблюдать особую осторожность.		Освещается
2.2.	Высота моста или переправы	Указывает на мост или воздушную переправу с ограниченной высотой. Цифры на знаке указывают расстояние в метрах от среднего уровня воды до нижнего края моста или переправы.		Освещается
2.3.	Ограничение глубины судоходства в метрах	Цифры на знаке указывают максимально допустимое погружение судна на данном участке пути судна (отсчет от среднего уровня воды).		Освещается
2.4.	Судоходство запрещено за пределами флажков	Знак устанавливается на опорах моста или на конструкциях между ними.		Опоры моста в темное время суток освещают. Луч источника света (прожектора) направляют перпендикулярно поверхности воды и это не должно мешать видимости других навигационных огней.
2.5.	Указывает направление движения судоходных средств	Указывает направление движения судоходных средств.		Освещается
2.6.a	Радиостанция должна быть включена	Радиостанция должна быть включена.		Освещается
2.6.b	Радиостанция должна быть включена на указанном канале	Радиостанция должна быть включена на указанном канале.		Освещается
2.7.	Ширина пути судна (фарватера) или канала ограничена	Ширину пути (фарватера) судна или канала указывают в цифрах в середине знака.		Освещается

3. Створные знаки указывают ось пути судна. Створную линию образуют один за другим установленные переходные знаки, из которых первый знак установлен ниже, чем задний. Переходные знаки указывают направление пути судна, по которому оно переходит от одного берега к другому.

№ п.п.	Название знака	Описание знака	Обозначение знака в дневное время суток	Обозначение знака в темное время суток
3.1.	Створные знаки и переходные знаки	Ромбовидный знак желтого цвета с вертикальной черной полосой посередине устанавливаются на левом берегу внутренних вод. В темное время суток каждый знак отмечается желтой вспышкой с нечетным числом характеристик, только не три вспышки в период.		
3.2.	Створные знаки и переходные знаки	Знак квадратной формы желтого цвета с вертикальной черной полосой посередине устанавливается на правом берегу внутренних вод. В темное время суток этот знак отмечают желтой вспышкой с парным количеством характеристик, только не две вспышки в период.		




4. Ходовые знаки на берегу указывают, что путь судна (фарватер) может проходить вблизи берега, на котором установлены соответствующие знаки.

№ п.п.	Название знака	Описание знака	Обозначение знака в дневное время суток	Обозначение знака в темное время суток
4.1.	Ходовой знак	Знак квадратной формы белого цвета с широкой горизонтальной полосой красного цвета посередине устанавливается на правом берегу внутренних вод. В темное время суток этот знак обозначает постоянно горящий красный огонь.		
4.2.	Ходовой знак	Ромбовидный комбинированный из двух цветов, у которого верхний треугольник зеленый, нижний – белый устанавливается на левом берегу внутренних вод. В темное время суток отмечает постоянно горящий зеленый огонь.		







5. Буй обозначают края путей судна (фарватера).












№ п.п.	Название знака	Описание знака	Обозначение знака в дневное время суток	Обозначение знака в темное время суток
5.1.	Буй	Буй цилиндрической формы красного цвета, на котором в темное время суток горит ритмически мигающий огонь красного цвета, обозначает правый край пути судна (фарватера).		
5.2.	Буй	Буй конусной формы зеленого цвета, на котором в темное время суток горит ритмически мигающий огонь зеленого цвета обозначает левый край пути (фарватера) судна.		

6.Фиксированные знаки обозначают сторону пути судна (фарватера).

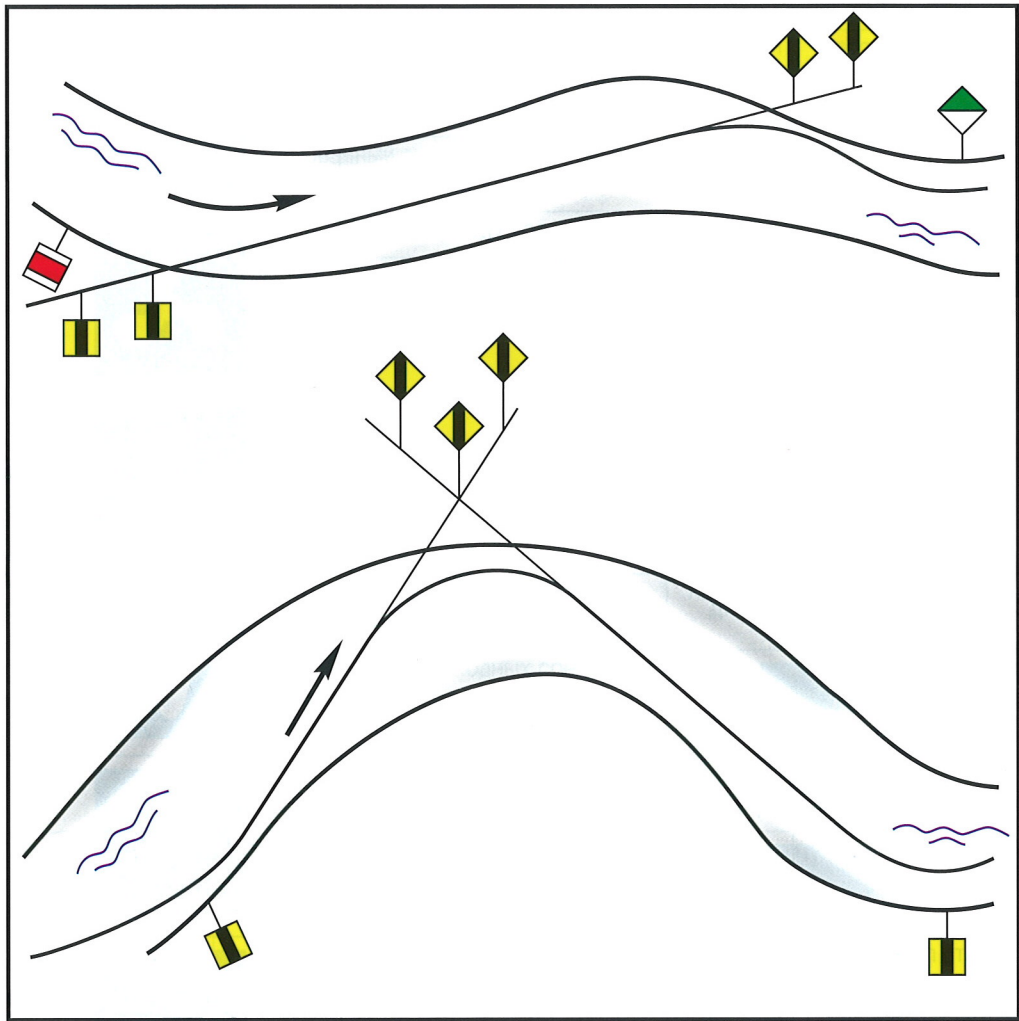
№ п.п.	Название знака	Описание знака	Обозначение знака в дневное время суток	Обозначение знака в темное время суток
6.1.	Фиксированный знак	Фиксированный знак красного цвета обозначает правую сторону пути судна (фарватера).		Не освещается
6.2.	Фиксированный знак	Фиксированный знак зеленого цвета обозначает левую сторону пути судна (фарватера).		Не освещается
6.3.	Фиксированный знак	Знак, который устанавливают в местах разделения канала на две части.		Не освещается

7. Информационные знаки

№ п.п.	Название знака	Описание знака	Обозначение знака в дневное время суток	Обозначение знака в темное время суток
7.1.	Разрешен спуск судоводных средств на воду и подъем на берег	Разрешен спуск судоводных средств на воду и подъем на берег.		Не освещается
7.2.	Разрешено использование водных мотоциклов	Разрешено использование водных мотоциклов.		Не освещается
7.3.	Разрешено судоводным средствам стоять у берега	Знак устанавливается в местах, где разрешается стоянка на якорь судоводных средств или швартовка у берега.		Освещается
7.4.	Разрешено использование моторных лодок	Разрешено использование моторных лодок.		Не освещается
7.5.	Разрешено плавание на парусных досках	Разрешено плавание на парусных досках.		Не освещается
7.6.	Разрешено судоводство яхт и других судоводных средств, которые предусмотрены для плавания, главным образом с парусами	Разрешено судоводство яхт и других судоводных средств, которые предусмотрены для плавания, главным образом с парусами.		Не освещается

7.7.	Разрешен воднолыжный спорт	Разрешен воднолыжный спорт.		Не освещается
7.8.	Разрешено судоводство всех прогулочных судов	Разрешено судоводство всех прогулочных судов		Не освещается
7.9.	Разрешено судоводство моторизированных судоводных средств	Разрешено судоводство судоводных средств, приводимых в движение двигателем.		Не освещается
7.10.	Места забора питьевой воды	Место забора питьевой воды.		Не освещается
7.11.	Телефон	Телефон.		Не освещается
7.12.	Одностороннее движение или конец ограничения	Одностороннее движение или конец ограничения.		Не освещается
7.13.	Возможность получить информацию для судоводства на канале, указанном на знаке	Возможность получить информацию для судоводства на канале, указанном на знаке.		Не освещается
7.14.	Разрешена швартовка в пределах расстояния, указанного на знаке	Разрешена швартовка в пределах расстояния, указанного на знаке.		Не освещается
7.15.	Разрешена швартовка на расстоянии, указанном на знаке	Разрешена швартовка на расстоянии, указанном на знаке.		Не освещается
7.16.	Максимальное число пришвартованных судов (борт к борту)	Максимальное число пришвартованных судов (борт к борту).		Не освещается
7.17.	Всем судоводным средствам, за исключением моторизированных и парусных средств, судоводство разрешено	Всем судоводным средствам, за исключением моторизированных и парусных средств, судоводство разрешено.		Не освещается

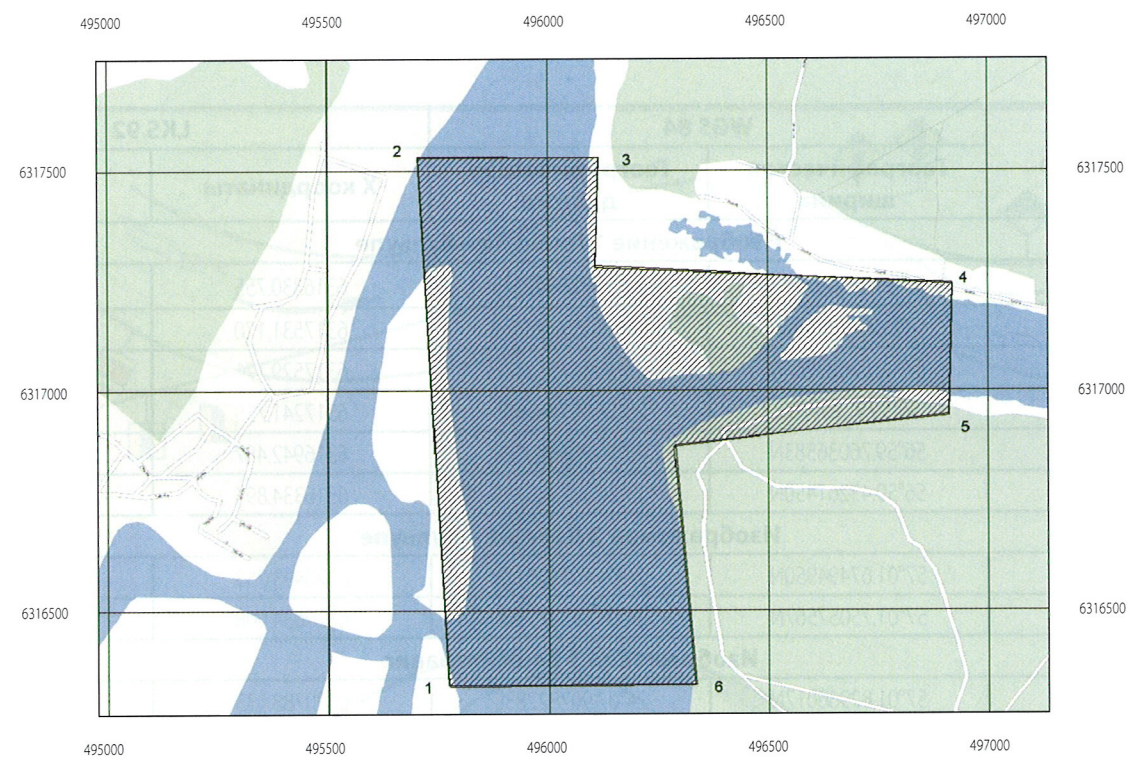
8. Пример установки знаков



Приложение 3.
Районы в которых установлены ограничения скорости
и координаты этих пунктов

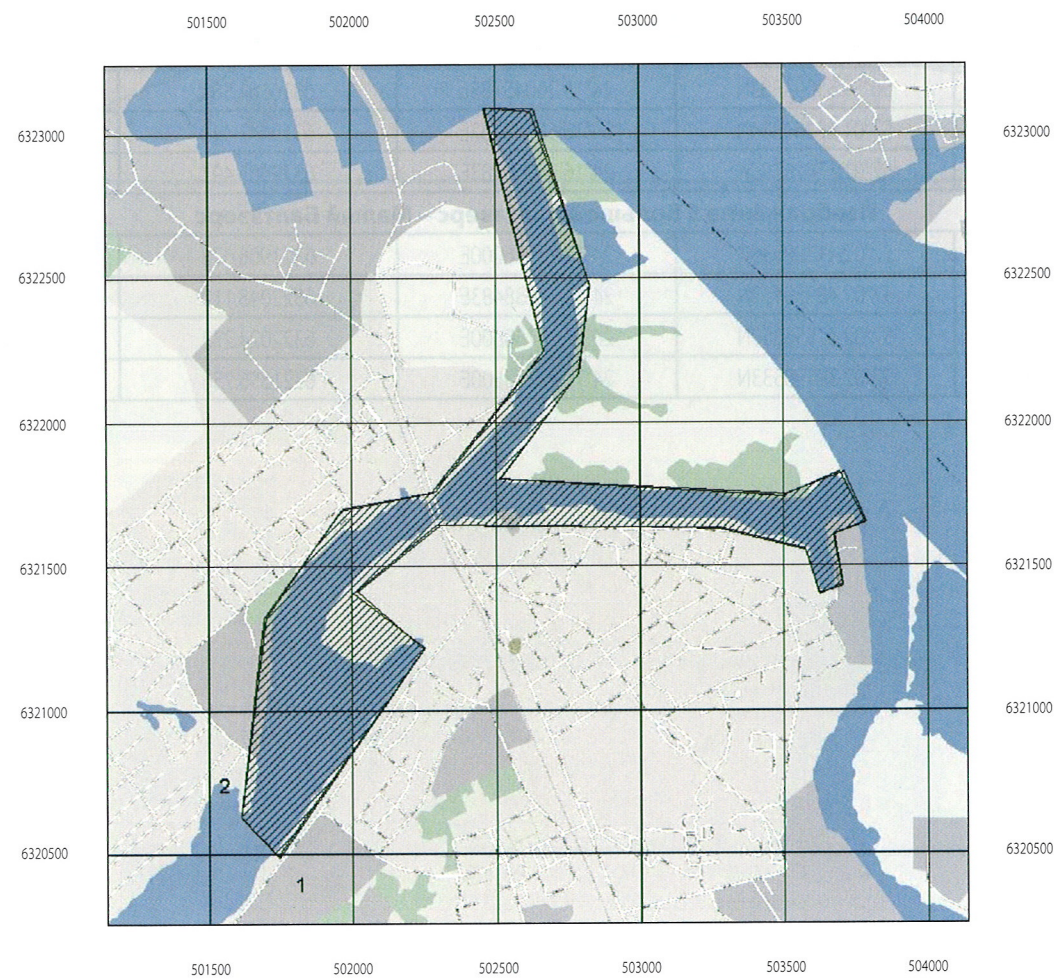
Номер пункта	WGS 84		LKS 92	
	Географическая ширина	Географическая долгота	X координаты	Y координаты
Изображение 1 Лиелупе – Бульупе				
1.	56°59.43009550N	23°55.82604717E	6316330.755	495772.944
2.	57°00.07709267N	23°55.75719883E	6317531.170	495704.462
3.	57°00.07623267N	23°56.16156517E	6317529.171	496113.853
4.	56°59.9216770N	23°56.95740500E	6317241.755	496919.373
5.	56°59.76036583N	23°56.94956000E	6316942.487	496911.207
6.	56°59.43261450N	23°56.38133533E	6316334.894	496335.301
Изображение 2 Даугава – Бульупе				
1.	57°01.67494950N	24°01.72260617E	6320493.753	501742.772
2.	57°01.75057567N	24°01.59547550E	6320634.008	501614.098
Изображение 3 Вецмилгравис				
1.	57°01.82966017N	24°07.90782283E	6320788.135	507999.838
2.	57°01.90846650N	24°07.76386483E	6320934.063	507853.928
3.	57°02.19030217N	24°08.25302933E	6321457.910	508347.714
4.	57°02.04833183N	24°08.36501000E	6321194.747	508461.517
Изображение 4 Кишозеро – Озеро Югла – Большой Балтэзерс				
1.	57°00.26819600N	24°12.88015333E	6317903.980	513039.123
2.	57°00.14407700N	24°12.98158933E	6317674.032	513142.541
3.	56°59.50418017N	24°15.14892333E	6316494.395	515341.128
4.	56°59.55094883N	24°15.26045783E	6316581.581	515453.754
5.	57°01.09264884N	24°16.68558767E	6319447.440	516885.287
6.	57°01.17816783N	24°16.53860283E	6319605.497	516735.904
Изображение 5 Большой Балтэзерс – Малый Балтэзерс				
1.	57°02.41328533N	24°18.76956200E	6321906.678	518982.973
2.	57°02.48959133N	24°18.74038483E	6322048.110	518952.816
3.	57°02.47556350N	24°19.20750800E	6322024.272	519425.355
4.	57°02.38498533N	24°19.21358500E	6321856.256	519432.289

Изображение 1
Лиелупе – Бульупе



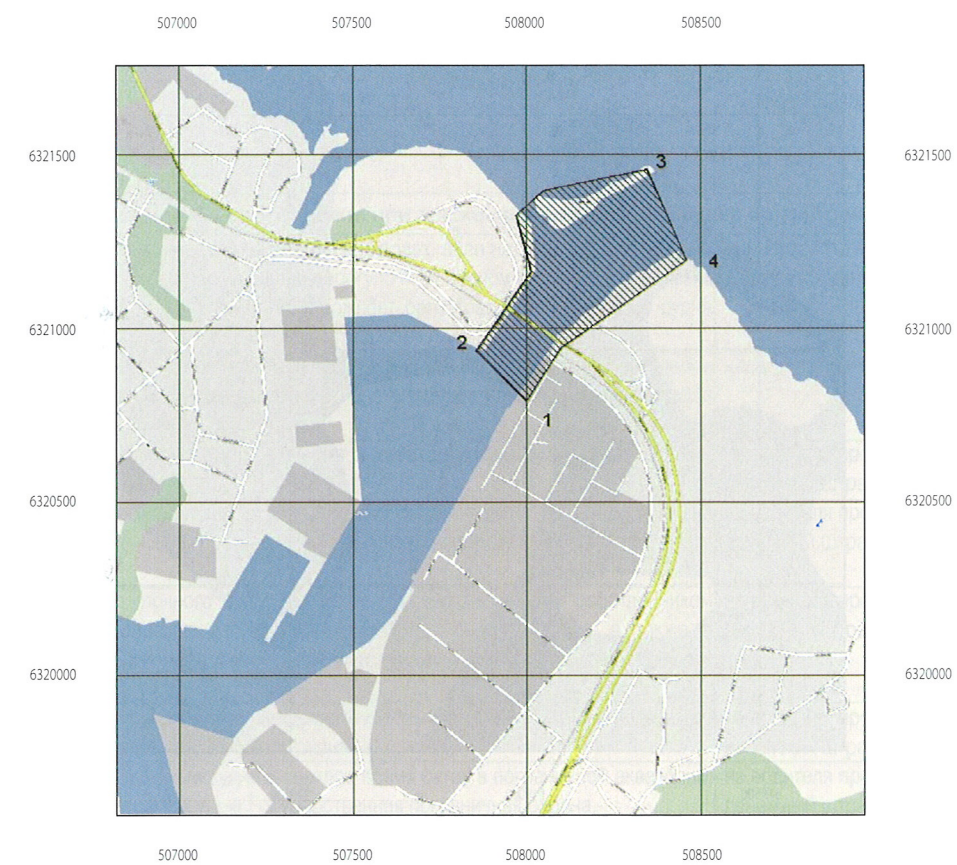
M 1:10000 @2008 LHD @2008 Google - Mape data

Изображение 2
Даугава – Бульупе



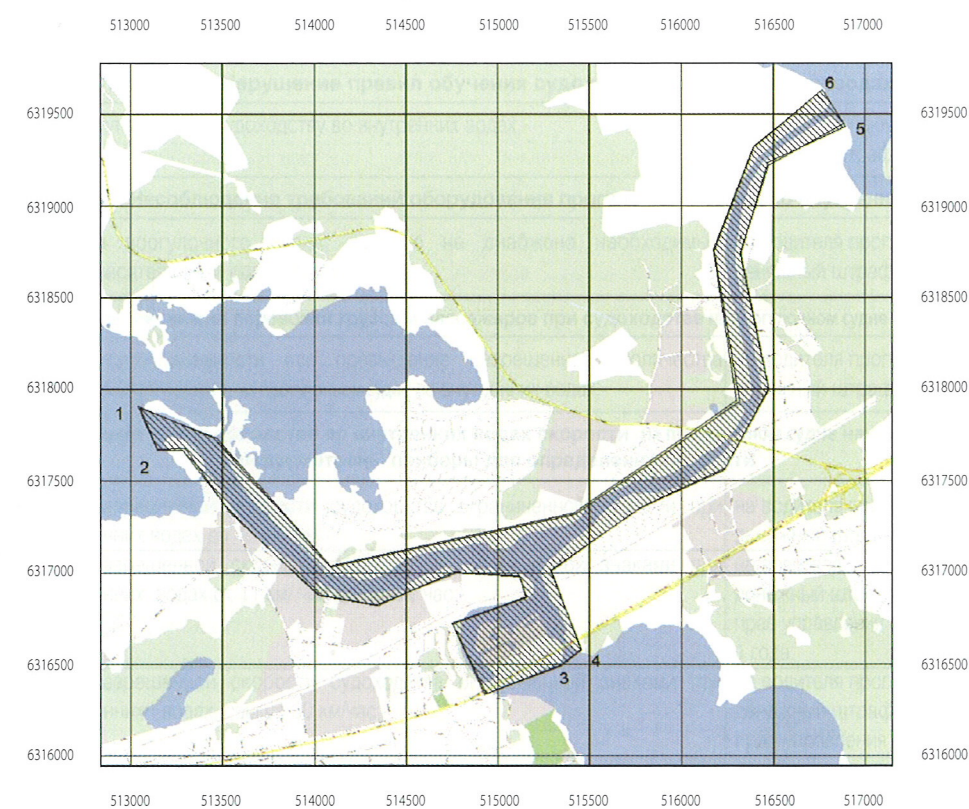
M 1:10000 @2008 LHD @2008 Google - Mape data

Изображение 3
Вецмилгравис

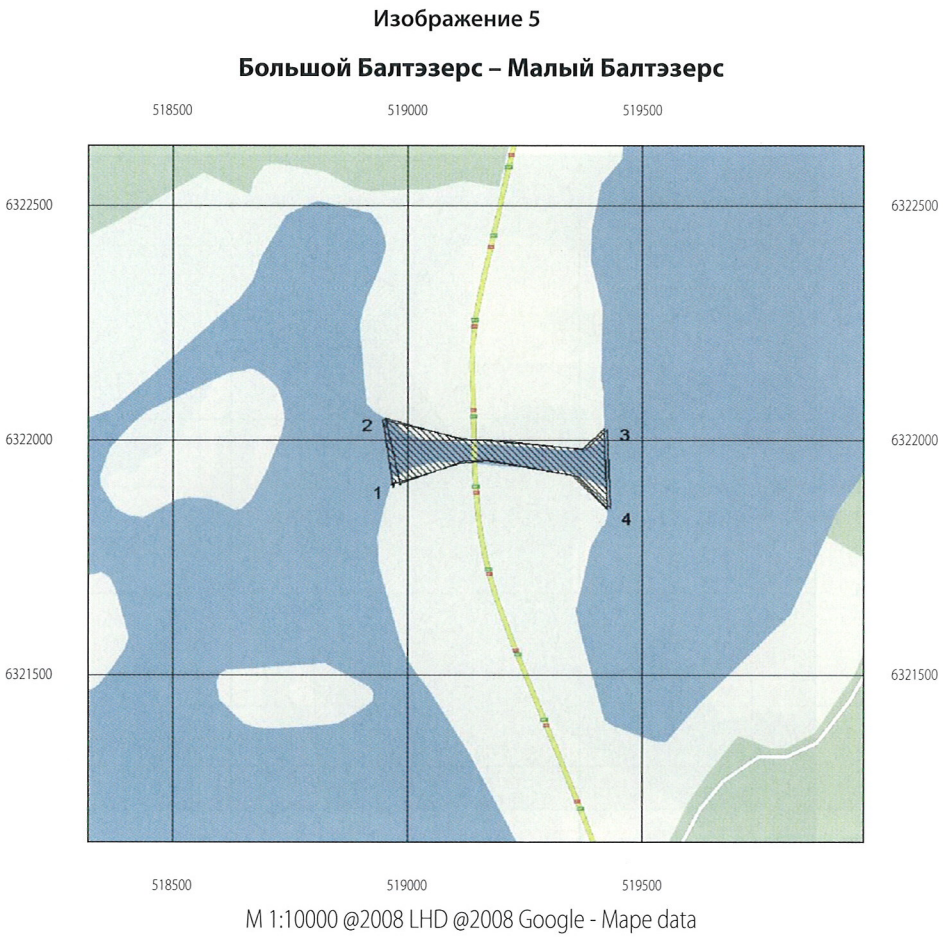


M 1:10000 @2008 LHD @2008 Google - Mape data

Изображение 4
Кишэзерс – Озеро Югла – Большой Балтэзерс



M 1:10000 @2008 LHD @2008 Google - Mape data



(Извлечения из Кодекса административных нарушений Латвии с изменениями, внесенным до марта 2009 года)

Статья и часть кодекса	Вид нарушения	Административное наказание
1	2	3
Ст. 117.¹ Нарушения общих правил при движении прогулочного судна во внутренних водах		
Ст. 117. ¹ ч. 1	За управление прогулочным судном во внутренних водах, если нет при себе документа, который подтверждает право на управления прогулочным судном (если такой документ необходим), или документа, который подтверждает регистрацию прогулочного судна (если соответствующее судно подлежит регистрации), –	выносится устное предупреждение или налагается денежный штраф до 5 лат
Ст. 117. ¹ ч. 2	За перемещение на водном мотоцикле, плавание на парусной доске, а также проведение водно-лыжного или подобного вида спорта без надетого спасательного жилета, который удерживает на плаву,-	налагается денежный штраф от 20 до 30 лат
Ст. 117. ¹ ч. 3	За управление прогулочным судном, если нет соответствующих прав на управление данным прогулочным судном,-	на водителя прогулочного судна налагается денежный штраф от 100 до 150 лат
Ст. 117. ¹ ч. 4	За использование удостоверения водителя прогулочного судна, которое заявлено утерянным или похищенным, если вместо него получено новое удостоверение водителя прогулочного судна,-	на водителя прогулочного судна налагается денежный штраф 10 лат
Ст. 117. ¹ ч. 5	За использование прогулочного судна в местах, где это запрещено собственником внутренних вод или лица, в распоряжении которого они находятся, а также в установленных и обозначенных самоуправлением купальных местах или запрещенных акваториях,-	на водителя прогулочного судна налагается денежный штраф от 40 до 70 лат
Ст. 117. ¹ ч. 6	За перевозку на прогулочном судне пассажира, который моложе 12 лет и без одетого спасательного жилета соответствующего размера,-	на водителя прогулочного судна налагается денежный штраф от 20 до 40 лат
Ст. 117. ¹ ч. 7	За судоходство на прогулочном судне в светлое время суток в пограничной акватории, если перед этим не информирована Государственная пограничная охрана,-	на водителя прогулочного судна налагается денежный штраф от 10 до 30 лат
Ст. 117. ¹ ч. 8	За судоходство на прогулочном судне в темное время суток в пограничной акватории,-	на водителя прогулочного судна налагается денежный штраф от 20 до 50 лат
Ст. 117. ¹ ч. 9	За судоходство на прогулочном судне в светлое время суток, в пограничной акватории, если у водителя прогулочного судна или у пассажиров нет при себе документа, подтверждающего личность,-	на водителя прогулочного судна налагается денежный штраф от двадцати до пятидесяти лат
Ст. 117. ¹ ч. 10	За другие нарушения установленных требований при движении во внутренних водах, не упомянутых в данном кодексе,-	Выносится устное предупреждение или налагается денежный штраф от 5 до 10 лат
Ст. 117. ¹ ч. 11	Под прогулочными судами, упомянутыми в данной статье, ст. 117. ³ и 117. ⁹ , подразумеваются суда, длина которых от 2,5 до 24 метров, которые не используются в коммерческих целях и на которых не имеется профессиональной команды.	
Статья 117.² Нарушение правил обучения судоходству во внутренних водах.		
Ст. 117. ² ч.	За нарушения правил обучения судоходству во внутренних водах,-	На лицо, обучающее судоходству, налагается денежный штраф от 40 до 60 лат.
Статья 117.³ Несоблюдение требований оборудования прогулочного судна во внутренних водах.		
Ст. 117. ³ ч.	За использование прогулочного судна, которое не снабжено необходимым оборудованием и спасательными средствами, –	на водителя прогулочного судна налагается денежный штраф от 20 до 40 лат.
Статья 117.⁴ Несоблюдение правил перевозки грузов и пассажиров при судоходстве на прогулочном судне во внутренних водах.		
Ст. 117. ⁴ ч.	За превышение грузоподъемности или превышение разрешенного количества перевозимых лиц, при судоходстве на прогулочном судне во внутренних водах,-	на водителя прогулочного судна налагается денежный штраф от 20 до 200 лат.
Статья 117.⁵ Несоблюдение при судоходстве во внутренних водах скорости на прогулочном судне на котором изготовителем предусмотрены приборы для определения скорости		
Ст. 117. ⁵ ч. 1	За превышение разрешенной скорости судоходства ограниченной знаками при движении во внутренних водах до 10 км/час -	на водителя прогулочного судна налагается денежный штраф от 30 до 40 лат
Ст. 117. ⁵ ч. 2	За превышение разрешенной скорости судоходства ограниченной знаками при движении во внутренних водах от 11 км/ час до 30 км/ час,-	на водителя прогулочного судна налагается денежный штраф от 70 до 100 лат и лишение прав управления судном на срок от 6 месяцев до 1 года.
Ст. 117. ⁵ ч. 3	За превышение разрешенной скорости судоходства ограниченной знаками при движении во внутренних водах, свыше 30 км/час,-	на водителя прогулочного судна налагается денежный штраф от 150 до 200 лат и лишение прав управления судном от 1 года до 2 лет.
Ст. 117. ⁵ ч. 4	За превышение скорости судоходства при движении во внутренних водах свыше 5 км/час ближе 30 м от купающегося лица,-	на водителя прогулочного судна налагается денежный штраф от 50 до 200 лат и лишение прав управления прогулочным судном до 1 года или без лишения прав на управление прогулочным судном.

Статья и часть кодекса	Вид нарушения	Административное наказание
1	2	3
Статья 117.⁶ Нарушения правил маневрирования, остановки, стоянки и якорной стоянки во внутренних водах.		
Ст. 117. ⁶ ч. 1	За маневрирование и остановку во внутренних водах вблизи движущегося или стоящего судна, земснаряда или плавающего подъемного крана, а также между ними,-	на водителя прогулочного судна налагается денежный штраф от 20 до 100 лат.
Ст. 117. ⁶ ч. 2	За стоянку на якоре на пути судов, а также швартовку или стоянку около навигационных знаков и пассажирской или грузовой пристани, если это не предусмотрено для прогулочных судов,-	на водителя прогулочного судна налагается денежный штраф от 70 до 100 лат и лишение прав управления прогулочным судном от 6 месяцев до 1 года.
Статья 117.⁷ Управление прогулочным судном во внутренних водах под влиянием алкоголя, наркотических или других одурманивающих средств		
Ст. 117. ⁷ ч. 1	За управление катером, водным мотоциклом, моторной лодкой, яхтой или обучение вождению во внутренних водах, если в выдыхаемом воздухе или при проверке крови концентрация алкоголя превышает 0,5 промили, но не превышает 1,5 промили,-	на водителя прогулочного судна налагается денежный штраф от 100 до 200 лат и лишение прав на управление прогулочным судном сроком от 6 месяцев до 1 года.
Ст. 117. ⁷ ч. 2	За управление катером, водным мотоциклом, моторной лодкой, яхтой или обучение вождению во внутренних водах, если в выдыхаемом воздухе или при проверке крови концентрация алкоголя превышает 1,5 промили,-	на водителя прогулочного судна налагается денежный штраф от 200 до 300 лат и лишение прав на управление прогулочным судном сроком на 2 года.
Ст. 117. ⁷ ч. 3	За управление катером, водным мотоциклом, моторной лодкой, яхтой или обучение вождению во внутренних водах под воздействием наркотических, психотропных, токсичных или других одурманивающих средств,-	на водителя прогулочного судна налагается денежный штраф от 300 до 400 лат и лишение прав на управление прогулочным судном сроком на 2 года.
Ст. 117. ⁷ ч. 4	За управление судоходным средством или обучение вождению во внутренних водах вод воздействием медикаментов снижающих скорость реакции и внимания, а также в больном и усталом состоянии такой степени, что это может повлиять на работоспособность водителя и безопасность водного движения,-	на водителя прогулочного судна налагается денежный штраф от 100 до 200 лат.
Ст. 117. ⁷ ч. 5	За нарушение, предусмотренные настоящей статьей, совершенные повторно в течение года после наложения административного наказания,-	на водителя прогулочного судна налагается денежный штраф от 400 до 500 лат и лишение прав сроком на 3 года.
Ст.117.⁸ Нарушения водителями прогулочных судов в особых случаях		
Ст. 117. ⁸ ч. 1	За несоблюдение установленного порядка после воднотранспортного происшествия,-	на водителя прогулочного судна налагается денежный штраф от 200 до 300 лат и лишение прав на управление от 1 года до 2 лет или без такого.
Ст. 117. ⁸ ч. 2	За неподчинения требованием лица, которое уполномочено остановить документы водителя прогулочного судна.	на водителя налагается денежный штраф от 300 до 400 лат и лишение прав на управление прогулочным судном сроком от 2 до 3 лет.
Ст. 117. ⁸ ч. 3	За употребление алкогольных напитков, наркотических веществ или иных одурманивающих веществ после воднотранспортного происшествия, а также после остановки прогулочного судна по требованию работника полиции или должностного лица Национальных вооруженных сил морской береговой охраны или должностного лица Государственной погранохраны (в приграничных водах и акватории портов), до проверки наличия воздействия алкогольных напитков, наркотических или других одурманивающих веществ или освобождения от такой проверки,-	на водителя прогулочного судна налагается денежный штраф от 400 до 500 лат и и лишение прав на управление на 3 года. на водителя прогулочного судна, у которого нет прав на управление прогулочным судном (права на управление прогулочным судном не получены в установленном порядке или лишен их) налагается штраф от 400 до 500 лат и запрет на получения прав на управление прогулочными судами на 3 года.
Ст. 117. ⁸ ч. 4	За отказ от проведения проверки наличия концентрации алкоголя, а также наркотических или других одурманивающих веществ в крови,-	на водителя прогулочного судна налагается денежный штраф от 400 до 500 лат и и лишение прав на управление на 3 года. на водителя прогулочного судна, у которого нет прав на управление прогулочным судном (права на управление прогулочным судном не получены в установленном порядке или лишен их) налагается штраф от 400 до 500 лат и запрет на получения прав на управление прогулочными судами на 3 года.

Статья и часть кодекса	Вид нарушения	Административное наказание
1	2	3
Статья 117.⁹ Нарушение правил регистрации прогулочного судна		
Ст. 117. ⁹ ч. 1	За управление прогулочным судном, подлежащим регистрации, не зарегистрированным в установленном порядке,-	на водителя прогулочного судна налагается денежный штраф от 150 до 200 лат.
Ст. 117. ⁹ ч. 2	За управление таким прогулочным судном, на котором в предназначенном для этого месте не указан один из государственных номерных знаков или название,-	На водителя прогулочного судна налагается денежный штраф от 150 до 200 лат.
Статья 117.¹⁰ Повреждение навигационных знаков и огней, самовольная установка, снятие, повреждение портовых гидротехнических строений, оснащения и устройств		
Ст. 117. ¹⁰ ч.	За повреждение навигационных знаков и огней, самовольную установку, снятие, повреждение портовых гидротехнических строений, оснащения и устройств,-	Налагается денежный штраф от 50 до 75 лат.
Статья 117.¹¹ Несоблюдение правил проведения водолазных работ.		
Ст. 117. ¹¹ ч.	За проведение водолазных работ в портовых водах без соответствующего разрешения, а также за несоблюдение правил сигнализации в период проведения работ,-	Налагается денежный штраф от 10 до 50 лат.
Права и обязанности лиц, привлекаемых к административной ответственности.		
Ст. 258	Водители транспортных средств или другие лица, управляющие транспортными средствами, а также водители прогулочных судов при наличии достаточного подозрения о том, что они находятся под воздействием алкогольных напитков, наркотических или других одурманивающих веществ отстраняются от управления транспортным средством или прогулочным судном и в установленном порядке проходят проверку на наличие воздействия алкогольных напитков, наркотических или других одурманивающих веществ.	
Ст. 29. ч. 4	За управление транспортным спедством или прогулочным судном в состоянии алкогольного опьянения или под воздействием наркотичецких или иных одурманивающих веществ, водитель согласно определенному санкцией сроку лишается водительских прав как на транспортное средство, так и на прогулочное судно.	
Статья 29.³ Запрет на определенное время получить права на управления прогулочными судами		
Ст. 29. ³ ч.	Запрет на определенное время получить права на управление прогулочным судами применяется к водителям прогулочных судов, не имеющих данных прав и совершившим нарушение, за которое предусмотрено лишение прав на управление прогулочными судами. Запрет распространяется на все виды прогулочных судов, независимо от того каким видом прогулочного судна совершено нарушение. Срок запрета получить права на управление прогулочными судами устанавливается согласно определенному санкцией за конкретное нарушение сроку лишения прав на управление прогулочными судами.	

I. Запрещающие знаки



1. Что означает на рисунке показанный знак?

1. Место для постановки на якорь.
2. Запрещение стоять на якорь.
3. Запрещение плавать без якоря.



2. Что означает на рисунке показанный знак?

1. Запрещение прохода судов.
2. Указывает на пролет моста, под которым разрешен проход.



3. Что означает на рисунке показанный знак?

1. Запрещение плавания судов.
2. Запрещение создавать волнение.



4. Что означает на рисунке показанный знак?

1. Запрещение плавания моторных судов.
2. Запрещение создавать волнение.



5. Что означает на рисунке показанный знак?

1. Запрещение проводить спортивные соревнования.
2. Общее запрещение плавания прогулочных судов.



1. Что означает на рисунке показанный знак?

1. Место для воднолыжного спорта.
2. Запрещение воднолыжного спорта.
3. Запрещение воднолыжного спорта без спасательного жилета.



2. Что означает на рисунке показанный знак?

1. Запрещение плавания яхт и других парусных судов.
2. Место для тренировок и соревнований парусных судов.



3. Что означает на рисунке показанный знак?

1. Запрещена ловля рыбы с лодки.
2. Разрешено плавание только моторных и парусных судов.



4. Что означает на рисунке показанный знак?

1. Запрещение плавания на парусных досках.
2. Место для тренировок и соревнований на парусных досках.



5. Что означает на рисунке показанный знак?

1. Запрещение плавания.
2. Спуск судов на воду или подъем на берег запрещен.



1. Что означает на рисунке показанный знак?

1. Запрещение плавания на водных мотоциклах.
2. Ограниченная акватория для плавания на водных мотоциклах.
3. Запрещение создавать волнение.



2. Что означает на рисунке показанный знак?

1. Запрещение швартоваться.
2. Запрещение стоять на якоре или бросать лот.



3. Что означает на рисунке показанный знак?

1. Запрещение стоянки на швартовых или на якоре.
2. Место для стоянки прогулочных судов.



4. Что означает на рисунке показанный знак?

1. Маркировка судового хода (фарватера).
2. Предписание не превышать указанную скорость (в км/час).

1. Спасательный круг с линем должен находиться :

1. На судне, длина которого 7 метров и более.
2. На судне, длина которого 12 метров и более.
3. На всех судах, за исключением водных мотоциклов.
4. На моторной лодке и на катере, длина которых 7 метров и более.

2. Количество спасательных жилетов на судне должно соответствовать:

1. Длине судна в метрах.
2. Количество взрослых людей на судне.
3. Количество пассажиров в возрасте до 12 лет.
4. Количество людей на судне.

3. Огнетушительный аппарат должен находиться:

1. На всех судах.
2. На катере.
3. На моторной лодке, длина которой 7 метров и более .
4. На судах, указанных в ответах 2. и 3.

4. Ведро, черпак или ручной насос должен находиться:

1. Только на моторной лодке и на катере.
2. Только на гребной лодке и на моторной лодке.
3. На гребной лодке, на моторной лодке и на катере.

5. Аптечка первой медицинской помощи должна находиться:

1. На всех судах, длина которых 7 метров и более.
2. Только на судне, длина которого 12 метров и более.
3. На всех судах не зависимо от их длины.
4. На моторной лодке и на катере, длина которых 7 метров и более.

6. Водонепроницаемый электрический фонарь должен находиться:

1. На судне, длина которого 7 метров и более.
2. На судне, на котором не установлены стационарные навигационные огни.
3. На всех судах, за исключением водных мотоциклов.

7. Якорь с тросом или цепью должен находиться:

1. На гребной лодке, на моторной лодке и на катере.
2. На моторной лодке и на катере.

1. **Перед выходом в плавание судоводитель должен проверить:**

1. Исправность спасательных средств, двигателя, корпуса, рулевого устройства, навигационных огней.

2. Наличие запасов питьевой воды, продовольствия и теплой одежды.
3. **Что должен предпринять водитель прогулочного судна на узком фарватере при появлении встречного судна?**

1. Должен подать предупредительный звуковой сигнал и продолжать движение.

2. Должен держаться, насколько это безопасно, правой (по ходу) стороны фарватера и в случае необходимости освободить путь.
5. **Разрешаетсяли установка рыболовных снастей на фарватере?**

1. Разрешается при наличии разрешения на ловлю рыбы.

2. Разрешается, если рыболовные снасти обозначены флажками.

3. Не разрешается.
7. **Как доставляется водный мотоцикл на разрешенный район плавания, если его спускают на воду в зоне для купания или вблизи от такой зоны?**

1. С неработающим двигателем (двигаясь на веслах или на буксире).

2. Двигаясь с работающим мотором и соблюдая особую осторожность.
9. **В каком возрасте пассажиры во время плавания должны быть в спасательном жилете:**

1. До 18 лет.

2. До 16 лет.

3. До 12 лет.

4. На всех пассажирах независимо от их возраста, должен быть надет спасательный жилет.

2. **Прогулочное судно находится на ходу:**

1. Если оно не пришвартовано к берегу, не стоит на якоре и не стоит на мели.

2. Если его скорость достаточна для поддержания управляемости в данных условиях.
4. **Как должен действовать водитель катера, если он намерен пересечь фарватер?**

1. Должен убедиться, что не будут созданы помехи для судов, идущих по фарватеру, и пересекать фарватер, насколько это возможно, под прямым углом.

2. Должен пересечь фарватер на максимальной скорости, избегая судов, идущих по фарватеру.
6. **Разрешаетсяли стоянка судна в зоне купания или вблизи от него с работающим двигателем?**

1. Разрешается, если время стоянки не превышает 5 минут.

2. Разрешается, если последующий запуск двигателя затруднен.

3. Не разрешается.
8. **Разрешеноли движение на катере с включенным двигателем, если его спускают на воду в специально оборудованном месте для спуска судов, которое находится в зоне для купания или вблизи такой зоны?**

1. Разрешено, соблюдая безопасную скорость.

2. Не разрешено.
10. **Спасательный жилет должен быть надет:**

1. Во время плавания на парусной доске.

2. Во время катания на водных лыжах.

3. В обоих вышеупомянутых случаях.

1. **Какие меры безопасности должен предпринять владелец судов перед сдачей их в аренду?**

1. Провести инструктаж о мерах безопасности во время плавания и о безопасном пользовании средствами безопасности.

2. Взыскать залог для возмещения возможного ущерба, который может возникнуть в случае водно-транспортного происшествия.

3. Ознакомить арендующего с правилами судоходства на данной акватории и особенностями акватории.

4. Меры указанные в ответах 1. и 3.
3. **Разрешаетсяли выходить в плавание на судне, подлежащем регистрации, на котором в предусмотренных местах нет государственных номерных знаков?**

1. Не разрешается.

2. Разрешается, если номерные знаки находятся на борту судна.

3. Разрешается, если на судне поднят государственный флаг.
5. **Разрешаетсяли превысить разрешенное количество перевозимых людей?**

1. Не разрешается.

2. Разрешается, если на каждого пассажира надет спасательный жилет и каждый из них обеспечен сидячим местом.

3. Разрешается, если на каждого пассажира надет спасательный жилет.

4. Разрешается, если каждый пассажир обеспечен сидячим местом.
7. **С какой скоростью разрешается идти на судне ближе 30 метров от купающихся?**

1. 5 км/час.

2. 7 км/час.

3. 10 км/час.
9. **Запрещено маневрировать и останавливаться:**

1. Вблизи судов на ходу или не имеющих хода.

2. Вблизи земснарядов.

3. Вблизи плавучих кранов.

4. Во всех вышеперечисленных случаях.

2. **Разрешаетсяли двигаться с прогулочным судном, если на нем отсутствуют спасательные средства?**

1. Разрешается, если на судне нет пассажиров.

2. Разрешается, но не во время навигационного сезона.

3. Не разрешается.
4. **Разрешаетсяли превысить грузоподъемность судна?**

1. Разрешается, если судно не превышает безопасную скорость.

2. Разрешается, если высота волны не превышает 0,2 метра и скорость ветра не превышает 5 метров в секунду.

3. Не разрешается.
6. **Разрешаетсялипревыситьуказаннуюназапрещающем знаке скорость?**

1. Не разрешается.

2. Разрешается, если на расстоянии видимости нет других судов или объектов на воде.
8. **Разрешаетсяли плавание судов на акваториях и в местах для купания, запрещенных местными властями?**

1. Разрешается для высадки пассажиров на берег.

2. Разрешается, если не превышаетея минимальная скорость.

3. Не разрешается.
10. **Запрещено становиться на якорь:**

1. На фарватере, под мостами и у причалов.

2. В местах, где это запрещено запрещающим знаком.

3. В обоих вышеперечисленных случаях.

1. **Запрещено швартоваться или стоять:**

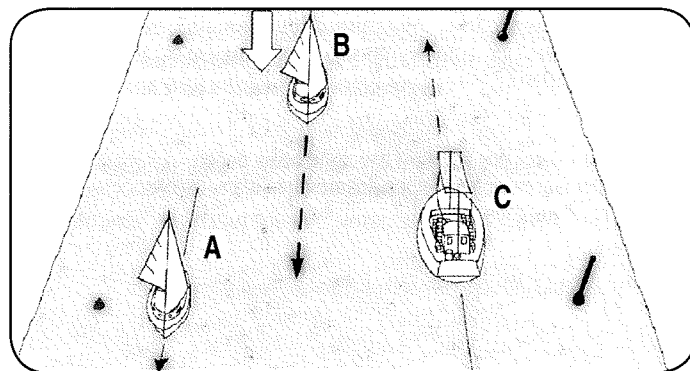
1. У навигационных знаков.
2. У пассажирских или грузовых причалов.
3. В местах, где это запрещено запрещающим знаком.
4. Во всех вышеперечисленных случаях.

3. **Как долго после водно-транспортного происшествия не разрешается принимать алкогольные напитки, наркотические или подобные одурманивающие вещества?**

1. До проверки уровня влияния алкогольных напитков, наркотических или подобных одурманивающих веществ или освобождения от такой проверки.
2. До, если необходимо, оказания пострадавшим первой помощи, остановки двигателя, постановки на якорь и вызова Государственной полиции.

5. **Если должностное лицо Государственной полиции установит, что концентрация алкоголя в крови единственного сертифицированного водителя прогулочного судна превышает допустимую норму, оно может:**

1. Отстранить водителя от управления прогулочным судном и доставить судно на ближайшую стоянку для прогулочных судов.
2. Разрешить водителю прогулочного судна следовать на стоянку на минимальной скорости.
3. Разрешить поставить прогулочное судно на якорь и дать водителю возможность выпастись пока концентрация алкоголя в его крови не снизится до допустимой нормы.



2. **Запрещено управлять судном или обучать его управлению, если концентрация алкоголя в крови превышает:**

1. 0,2 промили.
2. 0,5 промилей.
3. 1,0 промилю.

4. **Водитель прогулочного судна должен иметь при себе:**

1. Регистрационный сертификат судна.
2. Удостоверение водителя прогулочного судна.
3. Оба вышеуказанных документа.

6. **Технический осмотр прогулочного судна проводится:**

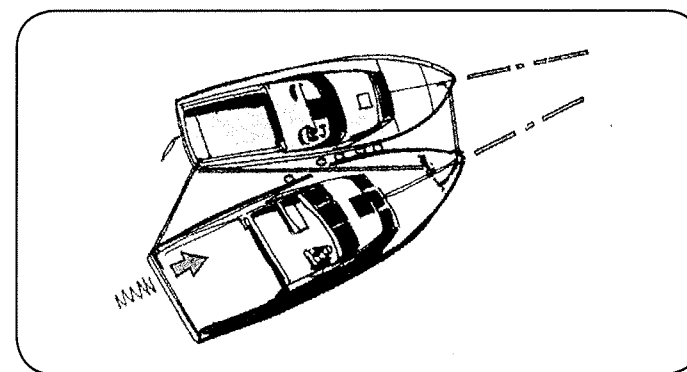
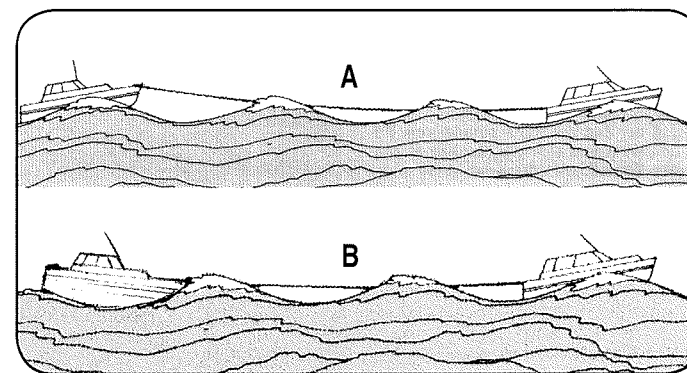
1. Один раз в году.
2. Один раз в два года.
3. Технический осмотр прогулочного судна не проводится, но водитель несет ответственность за безопасность прогулочного судна.

7. **Какие из показанных на рисунке малых судов выбрали правильный путь следования по фарватеру?**

1. А и В.
2. В.
3. А и С.
4. С.

1. **Какие меры безопасности необходимо предпринять, если катер остается на стоянке на длительное время?**

1. Отключить подачу электроэнергии.
2. Тщательно пришвартовать катер с учетом возможного колебания уровня воды.
3. Закрыть вентиль газового баллона.
4. Все предыдущие ответы правильные.



5. **Для чего на судне устанавливается радарный отражатель?**

1. Для того, чтобы создавать помехи при работе радара.
2. Для того, чтобы указать место нахождения судна.

7. **Наиболее частыми причинами нарушения работы двигателя являются:**

1. Засорение топливного фильтра или засорение фильтра забортной воды.
2. Засорение воздушного фильтра.

2. **Какой должна быть длина буксирного троса, если буксировка происходит по волнам?**

1. Чтобы буксирующее и буксируемое судна одновременно находились на вершине или во впадине волны.
2. Чтобы буксирующее и буксируемое судна одновременно не находились на вершине или во впадине волны.

3. **На каком из рисунков показана правильная длина буксирного троса?**

1. А.
2. В.
3. На обоих рисунках.

4. **Правильно-ли соединены показанные на рисунке судна для совместной буксировки?**

1. Неправильно.
2. Правильно.

6. **Какие меры предосторожности необходимо соблюдать при купании с прогулочного судна?**

1. Оставить работающим двигатель и малым ходом кружить вокруг купающихся, наблюдая за ними.
2. Выключить двигатель и назначить на судне наблюдающего, способного оказать помощь купающимся.

1. Прогулочные суда выставляют огни:

1. В любых погодных условиях, находясь в движении.
2. В темное время суток и в условиях ограниченной видимости.

3. Какую дугу горизонта освещает каждый из бортовых огней судна?

1. В 180°, от направления прямо по носу и до направления прямо по корме.
2. В 112,5°, от направления прямо по носу и до 22,5° позади траверза соответствующего борта.

5. Какого цвета топовый огонь?

1. Белого.
2. Красного.
3. Желтого.
4. Зеленого.

7. Какого цвета кормовой огонь?

1. Белого.
2. Красного.
3. Желтого.
4. Зеленого.

9. Какой предупредительный сигнал должен быть подан в темное время суток, если прогулочное судно не имеет хода и находится на судовом пути?

1. Красным огнем фальшфейера.
2. Непрерывным звуковым сигналом любым аппаратом.
3. Круговыми движениями поднятой над головой руки, держа в руке белый огонь.

2. Какую дугу горизонта освещает топовый огонь судна?

1. В 225°, от направления прямо по носу и до 22,5° позади траверза каждого борта.
2. В 180°, от направления прямо по носу и до 90° в сторону каждого борта.
3. В 90°, от направления прямо по носу и до 45° в сторону каждого борта.

4. Какую дугу горизонта освещает кормовой огонь судна?

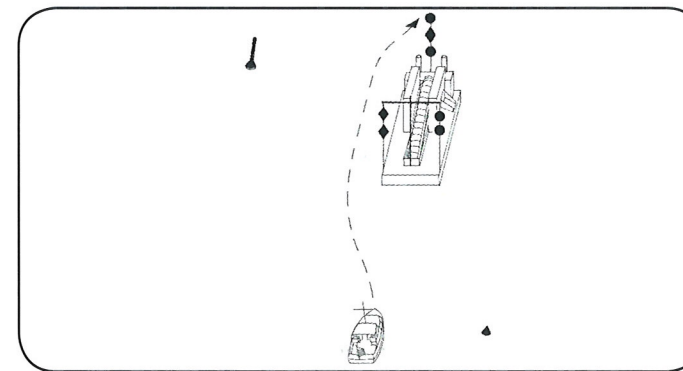
1. В 135°, от направления прямо по корме и до 67,5° в сторону каждого борта.
2. В 180°, от направления прямо по корме и до 90° в сторону каждого борта.

6. Какого цвета бортовые огни?

1. Желтого.
2. Зеленого на правом борту и красного на левом борту.
3. Красного на правом борту и зеленого на левом борту.
4. Белого.

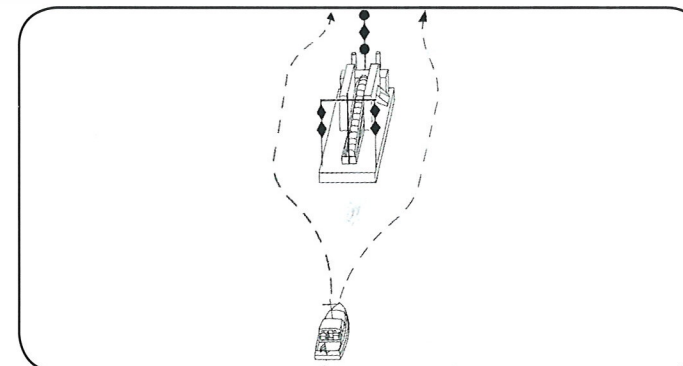
8. Какой предупредительный сигнал должен быть подан в светлое время суток, если прогулочное судно не имеет хода и находится на судовом пути?

1. Медленным и повторяемым поднятием и опусканием рук, вытянутых в сторону.
2. Круговыми движениями поднятой над головой руки, держа в руке заметный предмет.
3. Непрерывным звуковым сигналом любым аппаратом.
4. Выставлением белого флага.



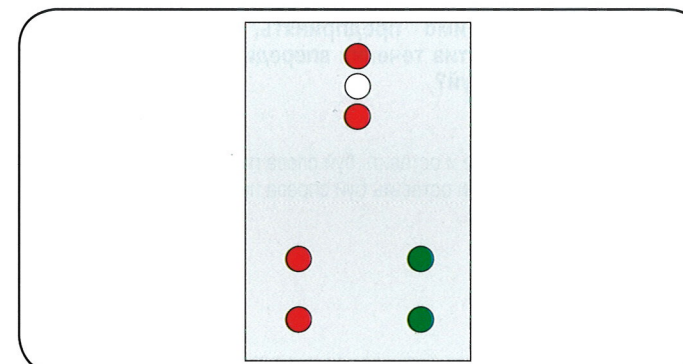
1. Выбралли водитель катера правильную сторону для прохода мимо работающего земснаряда?

1. Да.
2. Нет.



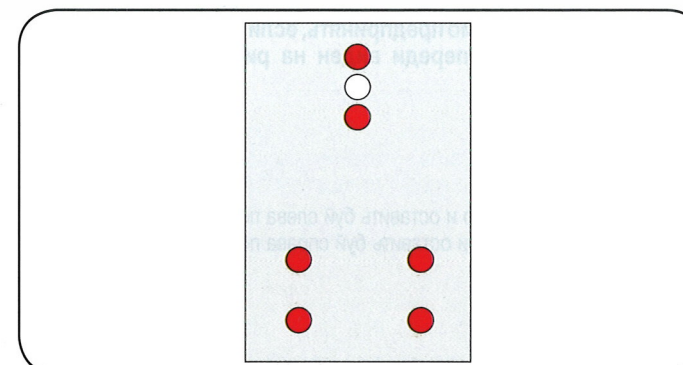
2. С какой стороны водитель катера может обойти земснаряд?

1. Справа.
2. Слева.
3. С обеих сторон.



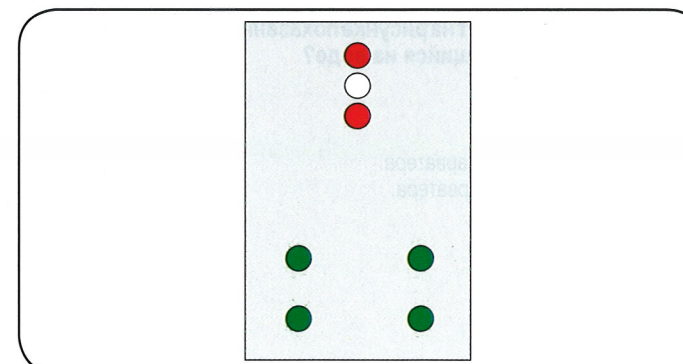
3. С какой стороны водитель катера может обойти земснаряд?

1. Справа.
2. Слева.
3. С обеих сторон.




4. С какой стороны водитель катера может обойти земснаряд?

1. Справа.
2. Слева.
3. С обеих сторон.
4. Движение запрещено.




5. С какой стороны водитель катера может обойти земснаряд?

1. Справа.
2. Слева.
3. С обеих сторон.
4. Движение запрещено.



1. Что необходимо предпринять, если во время движения против течения впереди виден на рисунке показанный буй?

1. Повернуть направо и оставить буй слева по ходу.
2. Повернуть налево и оставить буй справа по ходу.



2. Что необходимо предпринять, если во время движения по течению впереди виден на рисунке показанный буй?

1. Повернуть направо и оставить буй слева по ходу.
2. Повернуть налево и оставить буй справа по ходу.




3. Что необходимо предпринять, если во время движения против течения впереди виден на рисунке показанный буй?

1. Повернуть направо и оставить буй слева по ходу.
2. Повернуть налево и оставить буй справа по ходу.




4. Что необходимо предпринять, если во время движения по течению впереди виден на рисунке показанный буй?

1. Повернуть направо и оставить буй слева по ходу.
2. Повернуть налево и оставить буй справа по ходу.



5. Что обозначает на рисунке показанный навигационный огонь, находящийся на воде?

1. Правую сторону фарватера.
2. Левую сторону фарватера.




1. Что обозначает на рисунке показанный навигационный знак?

1. Правую сторону фарватера.
2. Левую сторону фарватера.



2. Что обозначает на рисунке показанный навигационный знак?

1. Правую сторону фарватера.
2. Левую сторону фарватера.



3. Что обозначает на рисунке показанный навигационный огонь, находящийся на воде?

1. Правую сторону фарватера.
2. Левую сторону фарватера.



1. На что указывает на рисунке показанный знак?

1. Предписание соблюдать особую бдительность.
2. Плавание разрешено только в прямом направлении.




2. На что указывает на рисунке показанный знак?

1. Свободная высота над уровнем воды ограничена.
2. Ограниченную глубину фарватера.




3. На что указывает на рисунке показанный знак?

1. Свободная высота над уровнем воды ограничена.
2. Ограниченную глубину фарватера.



4. На что указывает на рисунке показанный знак?

1. Предписание следовать в указанном направлении.
2. Фарватер или канал меняет направление направо.



5. На что указывает на рисунке показанный знак?

1. Пролет моста, предусмотренный для прохода судов.
2. Ширина прохода или фарватера ограничена.



1. На что указывает на рисунке показанный знак?

1. Ширину пролета моста, предусмотренного для прохода судов, в метрах.
2. Ограниченную ширину прохода или фарватера в метрах.
3. Разрешенный предел швартовки.



2. На что указывает на рисунке показанный знак?

1. Обязанность выйти на радиотелефонную связь.
2. Береговая радиотелефонная станция не работает.



3. На что указывает на рисунке показанный знак?

1. Обязанность выйти на радиотелефонную связь на канале, указанном на знаке.
2. 11 канал радиотелефонной связи закрыт.




4. На что указывает на рисунке показанный знак?

1. Ширину пролета моста, предусмотренного для прохода судов.
2. Запрещение прохода вне обозначенного пространства.
3. Пределы разрешенной швартовки.


1. Что означает непрерывный звуковой сигнал подаваемый судном?

1. Аварийный сигнал.
2. Сигнал для привлечения внимания в тумане.



2. Что означает, если человек на судне держит в поднятых руках фальшфейер красного цвета?

1. Жест приветствия.
2. Сигнал бедствия.




3. Что означает поднятый на судне прямоугольный флаг вместе с круглым предметом?

1. Сигнал бедствия.
2. Судно занято водолазными работами.


4. Что означает ракета красного цвета?

1. Сигнал бедствия.
2. Сигнал для привлечения внимания.




5. Что означают клубы дыма оранжевого цвета, поднимающиеся с судна?

1. Сигнал бедствия.
2. Неправильная смесь горючего.



6. Что означает, если человек на судне медленно и повторно поднимает и опускает вытянутые в стороны руки?

1. Жест приветствия.
2. Сигнал бедствия.



1. Чтобы парашютная ракета взлетела как можно выше и была видна как можно дольше, ее надо выстрелить:

1. Приблизительно 15 градусов от вертикали против ветра.
2. Приблизительно 15 градусов от вертикали по ветру.
3. Направление относительно к ветру не имеет значения.

2. Чтобы парашютная ракета была видна и не пропала в густых низких облаках, ее надо выстрелить:

1. Приблизительно под углом 45 градусов против ветра.
2. Приблизительно под углом 45 градусов по ветру.

3. Зажженный фальшфейер на катере надо держать:

1. На подветренной стороне судна.
2. На наветренной стороне судна.
3. Оба предыдущих ответа правильные.

4. Какой ультракоротковолновый канал используется для подачи сигнала бедствия?

1. 9. или 12. канал.
2. 16. или 70. канал.

5. Как по радиации указывается место нахождения судна?

1. По географическим координатам места.
2. По направлению от на карте обозначенного объекта на место судна и расстоянию от объекта.
3. Оба предыдущих ответа правильные.

1. Должны ли водители при выборе безопасной скорости учитывать видимость?

1. Не должен.
2. Должен всегда.
3. Должен в темное время суток или в условиях ограниченной видимости.

2. Какие факторы должны учитываться водителями при выборе безопасной скорости?

1. Плотность движения в данном районе акватории.
2. Состояние видимости.
3. Маневренные возможности судна и особенно расстояние, необходимое для полной остановки судна.
4. Все вышеперечисленные факторы.

3. Какие факторы должны учитываться водителями при выборе безопасной скорости?

1. Состояние ветра, моря и течения.
2. Близость навигационных опасностей.
3. Оба вышеперечисленных фактора.

4. Каким образом повышение скорости на повороте влияет на центробежную силу?

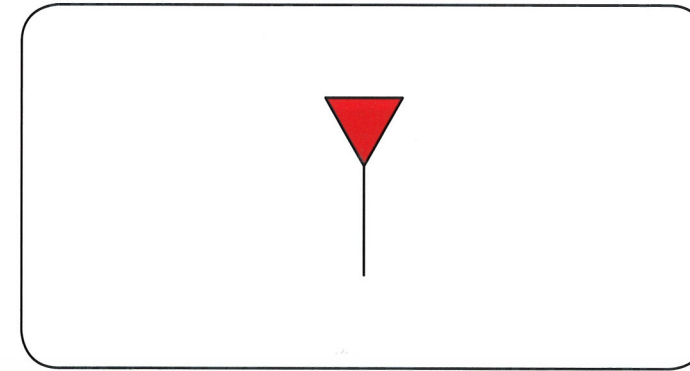
1. Центробежная сила увеличивается.
2. Центробежная сила уменьшается.
3. Центробежная сила не меняется.

5. В каком случае устойчивость маломерного судна на повороте уменьшается?

1. Выполняя поворот с большим радиусом.
2. Выполняя поворот на большей скорости.
3. Выполняя поворот на меньшей скорости.

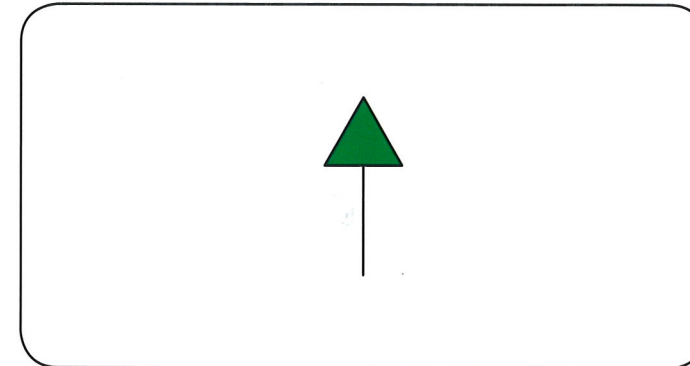
6. Что необходимо предпринять водителю маломерного судна, чтобы сохранить устойчивость судна при развороте в обратном направлении?

1. Уменьшить скорость перед разворотом или выполнить разворот с достаточно большим радиусом.
2. Увеличить скорость перед разворотом или выполнить разворот с возможно меньшим радиусом.



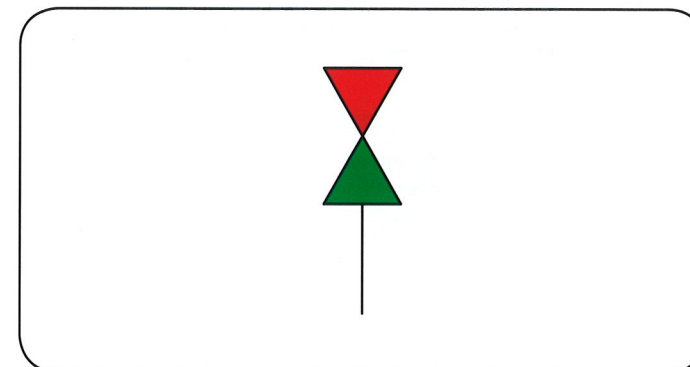
1. На какой стороне должен остаться на рисунке показанный знак во время движения судна против течения?

1. На левой.
2. На правой.



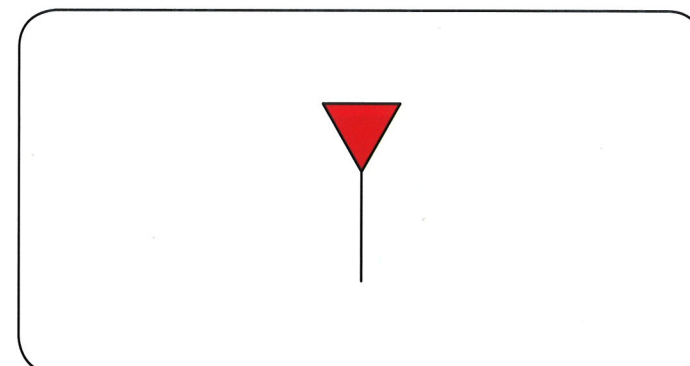
2. На какой стороне должен остаться на рисунке показанный знак во время движения судна против течения?

1. На левой.
2. На правой.



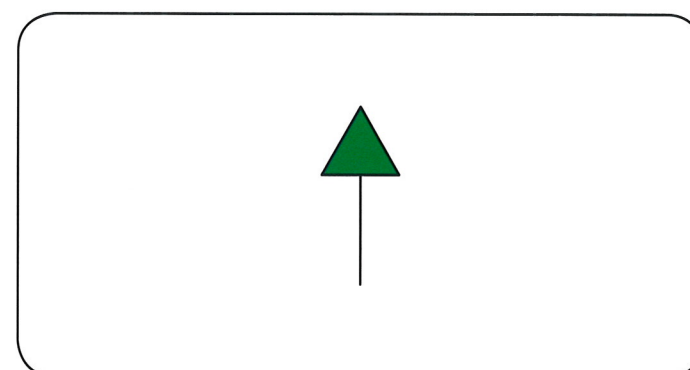
3. Где устанавливается на рисунке показанный знак?

1. В месте окончания фарватера.
2. В месте развилки судового канала.



4. На какой стороне должен остаться на рисунке показанный знак во время движения судна по течению?

1. На левой.
2. На правой.



5. На какой стороне должен остаться на рисунке показанный знак во время движения судна по течению?

1. На левой.
2. На правой.